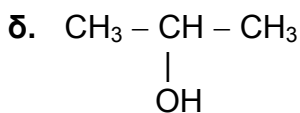
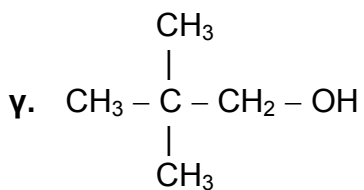
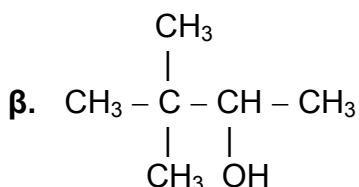
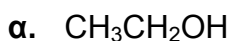


**ΠΑΝΕΛΛΑΔΙΚΕΣ ΕΞΕΤΑΣΕΙΣ Γ΄ ΤΑΞΗΣ
ΗΜΕΡΗΣΙΟΥ ΓΕΝΙΚΟΥ ΛΥΚΕΙΟΥ
ΠΑΡΑΣΚΕΥΗ 6 ΙΟΥΝΙΟΥ 2014
ΕΞΕΤΑΖΟΜΕΝΟ ΜΑΘΗΜΑ: ΧΗΜΕΙΑ
ΘΕΤΙΚΗΣ ΚΑΤΕΥΘΥΝΣΗΣ**

ΘΕΜΑ Α

Για τις προτάσεις **A1** έως και **A5** να γράψετε στο τετράδιό σας τον αριθμό της πρότασης και, δίπλα, το γράμμα που αντιστοιχεί στη σωστή επιλογή.

A1. Από τις παρακάτω αλκοόλες **δεν** αφυδατώνεται προς αλκένιο η



Μονάδες 5

A2. Με προσθήκη νερού σε αλκίνιο, παρουσία Hg, HgSO₄ και H₂SO₄, μπορεί να παραχθεί

α. μόνο κετόνη

γ. κυανιδρίνη

β. καρβονυλική ένωση

δ. αλκοόλη.

Μονάδες 5

A3. Από όλα τα στοιχεία της 2^{ης} περιόδου του περιοδικού πίνακα τη χαμηλότερη τιμή ενέργειας 1^{ου} ιοντισμού (E_{i1}) έχει

α. το αλκάλιο

γ. το αλογόνο

β. η αλκαλική γαία

δ. το ευγενές αέριο.

Μονάδες 5

A4. Το χημικό στοιχείο Χ με ηλεκτρονιακή δομή [Ar]3d¹⁰4s²4p⁵ ανήκει στην

α. 4^η περίοδο και στην 7^η ομάδα του περιοδικού πίνακα

β. 4^η περίοδο και στην 17^η ομάδα του περιοδικού πίνακα

γ. 5^η περίοδο και στην 4^η ομάδα του περιοδικού πίνακα

δ. 4^η περίοδο και στην 5^η ομάδα του περιοδικού πίνακα.

Μονάδες 5

A5. Όξινο διάλυμα είναι το διάλυμα του

- α. CH_3COONa 0,1 M
- β. $\text{CH}_3\text{NH}_3\text{Cl}$ 0,1 M
- γ. KCN 0,1 M
- δ. NaCl 0,1 M

Μονάδες 5

ΘΕΜΑ Β

B1. Να χαρακτηρίσετε τις προτάσεις που ακολουθούν, γράφοντας στο τετράδιό σας δίπλα στο γράμμα που αντιστοιχεί σε κάθε πρόταση, τη λέξη **Σωστό**, αν η πρόταση είναι σωστή, ή **Λάθος**, αν η πρόταση είναι λανθασμένη.

- α. Το $_{17}\text{Cl}$ σχηματίζει ενώσεις με ένα μόνο ομοιοπολικό δεσμό.
- β. Διάλυμα NaHSO_4 0,1 M έχει $\text{pH} > 7$ στους 25°C .
- γ. Διάλυμα NaHCO_3 1 M και Na_2CO_3 1 M είναι ρυθμιστικό διάλυμα.
- δ. Στην ένωση $\text{CH}_2=\text{CH}-\text{CH}=\text{CH}_2$ όλα τα άτομα του άνθρακα έχουν sp^2 υβριδικά τροχιακά.
- ε. Η προσθήκη HCN σε καρβονυλική ένωση είναι αντίδραση ανοικοδόμησης.

Μονάδες 10

B2. α. Να αναφέρετε δύο διαφορές μεταξύ του σ και του π δεσμού.

(μονάδες 4)

β. Οι τέσσερις πρώτες ενέργειες ionτισμού ενός στοιχείου είναι αντίστοιχα

$$E_{i1} = 738 \text{ kJ/mol} \quad E_{i2} = 1450 \text{ kJ/mol}$$

$$E_{i3} = 7,7 \cdot 10^3 \text{ kJ/mol} \quad E_{i4} = 1,1 \cdot 10^4 \text{ kJ/mol}$$

Σε ποια ομάδα του περιοδικού πίνακα ανήκει το στοιχείο αυτό και γιατί;

(μονάδες 4)

γ. Δίνεται πρωτολυτικός δείκτης ΗΔ με $\text{p}K_a = 5$. Αν ο δείκτης προστεθεί σε ένα διάλυμα χυμού μήλου, που έχει $\text{pH} = 3$, τι τιμή θα έχει ο λόγος $[\Delta^-] / [\text{H}\Delta]$; Με δεδομένο ότι η όξινη μορφή του δείκτη έχει χρώμα κόκκινο και η βασική κίτρινο, τι χρώμα θα αποκτήσει το διάλυμα;

(μονάδες 3)

δ. Διάλυμα άλατος NH_4A έχει $\text{pH} = 8$. Με δεδομένο ότι η K_b της NH_3 είναι 10^{-5} να εξετάσετε αν η τιμή K_a του ΗΑ είναι μεγαλύτερη, μικρότερη ή ίση του 10^{-5} .
Δίνεται $K_w = 10^{-14}$

(μονάδες 4)

Μονάδες 15

ΘΕΜΑ Γ

Γ1. α. Σε ένα δοχείο περιέχεται 1-πεντίνιο ή 2-πεντίνιο. Πώς θα διαπιστώσετε ποια από τις 2 ουσίες περιέχεται στο δοχείο;

(μονάδες 2)

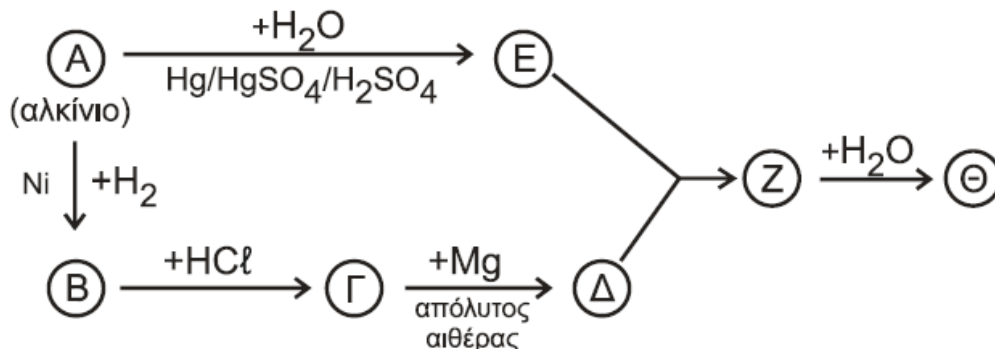
β. Σε δύο δοχεία περιέχονται μεθανικός μεθυλεστέρας (HCOOCH_3) και αιθανικός αιθυλεστέρας ($\text{CH}_3\text{COOCH}_2\text{CH}_3$). Δεν ξέρουμε όμως σε ποιο οχείο περιέχεται η κάθε ουσία. Πώς θα διαπιστώσετε σε ποιο δοχείο περιέχεται η καθεμία;

(μονάδες 4)

(Και στα δύο παραπάνω ερωτήματα να γράψετε τις χημικές εξισώσεις που τεκμηριώνουν την απάντησή σας).

Μονάδες 6

Γ2. Δίνεται το παρακάτω διάγραμμα χημικών διεργασιών.



Με δεδομένο ότι η ένωση Θ αλλάζει το χρώμα όξινου διαλύματος $K_2Cr_2O_7$ από πορτοκαλί σε πράσινο, να γράψετε τους συντακτικούς τύπους των ενώσεων Α, Β, Γ, Δ, Ε, Ζ και Θ.

Μονάδες 7

Γ3. Ομογενές μίγμα δύο κορεσμένων μονοσθενών αλκοολών (Α) και (Β) μάζας 44,4 g χωρίζεται σε τρία ίσα μέρη.

- Στο 1^ο μέρος προσθέτουμε περίσσεια Na, οπότε ελευθερώνονται 2,24 L αερίου σε πρότυπες συνθήκες (stp).
- Στο 2^ο μέρος προσθέτουμε περίσσεια $SOCl_2$ και στα οργανικά προϊόντα που προκύπτουν επιδρούμε με Mg σε απόλυτο αιθέρα. Στη συνέχεια προσθέτουμε νερό, οπότε προκύπτει ένα (1) μόνο οργανικό προϊόν.
- Στο 3^ο μέρος προσθέτουμε διάλυμα $I_2/NaOH$, οπότε καταβυθίζονται 0,05 mol κίτρινου ιζήματος.

Να προσδιορίσετε το συντακτικό τύπο και την ποσότητα σε mol της κάθε αλκοόλης στο αρχικό μίγμα.

Δίνονται: $Ar(H) = 1$, $Ar(C) = 12$, $Ar(O) = 16$

Μονάδες 12

ΘΕΜΑ Δ

Σε πέντε δοχεία περιέχονται τα επόμενα διαλύματα:

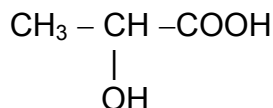
- διάλυμα $NaNO_3$ 0,1 M (Υ1)
- διάλυμα NH_3 0,1 M (Υ2)
- διάλυμα HCl 0,1 M (Υ3)
- διάλυμα $NaOH$ 0,1 M (Υ4)
- διάλυμα NH_4Cl 0,1 M (Υ5)

Δ1. Να βρείτε ποιο διάλυμα περιέχεται σε κάθε δοχείο με βάση τα δεδομένα του παρακάτω πίνακα

Δοχείο	1	2	3	4	5
pH	1	5	7	11	13

Μονάδες 5

Δ2. Το κυριότερο όξινο συστατικό του ξινισμένου γάλακτος είναι το γαλακτικό οξύ



- α.** Για την ογκομέτρηση 10 mL του ξινισμένου γάλακτος απαιτούνται 5 mL διαλύματος NaOH 0,1 M. Να υπολογίσετε τη συγκέντρωση του γαλακτικού οξέος στο ξινισμένο γάλα (κανένα άλλο συστατικό του γάλακτος δεν αντιδρά με NaOH).
(μονάδες 3)
- β.** Να προτείνετε από μία εργαστηριακή δοκιμασία για την ανίχνευση της καρβοξυλομάδας και της υδροξυλομάδας του γαλακτικού οξέος.
(Να γράψετε τις σχετικές χημικές εξισώσεις).

(μονάδες 2)

Μονάδες 5

Δ3. Με ποια αναλογία όγκων πρέπει να αναμείξουμε το διάλυμα Υ4 (NaOH) με το διάλυμα Υ5 (NH₄Cl), ώστε να προκύψει ρυθμιστικό διάλυμα (Υ6) με pH = 9.

Μονάδες 9

Δ4. Σε ίσους όγκους V των διαλυμάτων

Υ2 (NH₃ 0,1 M)

Υ4 (NaOH 0,1 M)

Υ6 (NH₃ / NH₄Cl)

προστίθεται νερό όγκου x L, y L, ω L αντίστοιχα, ώστε να μεταβληθεί το pH τους κατά μία μονάδα. Να διατάξετε κατά αύξουσα σειρά τις τιμές x, y, ω και να αιτιολογήσετε την απάντησή σας.

Μονάδες 6

- Τα δεδομένα του προβλήματος επιτρέπουν τις γνωστές προσεγγίσεις.
- Δίνονται $K_w = 10^{-14}$ και $\theta = 25^\circ \text{C}$.