

**ΑΠΟΛΥΤΗΡΙΕΣ ΕΞΕΤΑΣΕΙΣ Γ΄ ΤΑΞΗΣ
ΗΜΕΡΗΣΙΟΥ ΕΝΙΑΙΟΥ ΛΥΚΕΙΟΥ
ΤΕΤΑΡΤΗ 27 ΜΑΪΟΥ 2009
ΕΞΕΤΑΖΟΜΕΝΟ ΜΑΘΗΜΑ: ΧΗΜΕΙΑ
ΘΕΤΙΚΗΣ ΚΑΤΕΥΘΥΝΣΗΣ**

ΘΕΜΑ 1ο

Για τις ερωτήσεις 1.1 - 1.4 να γράψετε στο τετράδιό σας τον αριθμό της ερώτησης και δίπλα το γράμμα που αντιστοιχεί στη σωστή απάντηση.

1.1 Από τα παρακάτω υδατικά διαλύματα είναι ρυθμιστικό διάλυμα το:

- α. H_2SO_4 (0,1M) – Na_2SO_4 (0,1M)
β. HCl (0,1M) – NH_4Cl (0,1M)
γ. $HCOOH$ (0,1M) – $HCOONa$ (0,1M)
δ. $NaOH$ (0,1M) – CH_3COONa (0,1M)

Μονάδες 5

1.2 Το ατομικό τροχιακό, στο οποίο βρίσκεται το ηλεκτρόνιο ενός ατόμου υδρογόνου, καθορίζεται από τους κβαντικούς αριθμούς:

- α. n και l β. l και ml γ. n, l και ml δ. n, l, ml και ms

Μονάδες 5

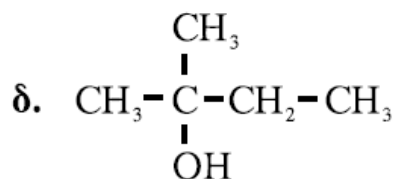
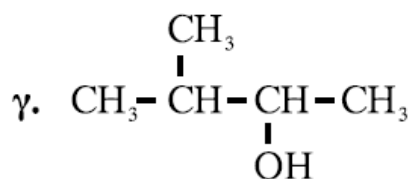
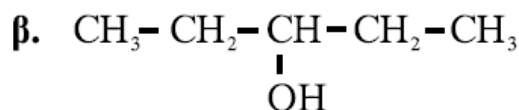
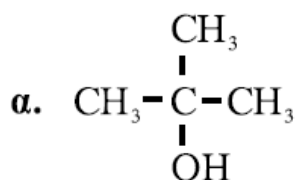
1.3 Δίνεται η ένωση $^1CH \equiv ^2C - ^3CH = ^4CH - ^5CH_3$

Ο δεσμός μεταξύ των ατόμων C^2 και C^3 προκύπτει με επικάλυψη:

- α. ενός sp και ενός sp^3 τροχιακού
β. ενός sp και ενός sp^2 τροχιακού
γ. ενός sp^3 και ενός sp^2 τροχιακού
δ. ενός sp και ενός sp τροχιακού

Μονάδες 5

1.4 Κατά την προσθήκη του αντιδραστηρίου Grignard CH_3-CH_2-MgX στην καρβονυλική ένωση $CH_3-CO-CH_3$ προκύπτει οργανική ένωση με την υδρόλυση της οποίας παράγεται η αλκοόλη:



Μονάδες 5

- 1.5** Να χαρακτηρίσετε τις προτάσεις που ακολουθούν, γράφοντας στο τετράδιό σας δίπλα στο γράμμα που αντιστοιχεί σε κάθε πρόταση, τη λέξη **Σωστό**, αν η πρόταση είναι σωστή, ή **Λάθος**, αν η πρόταση είναι λανθασμένη.
- Ο προσδιορισμός του τελικού σημείου της ογκομέτρησης υδατικού διαλύματος CH_3COOH με υδατικό διάλυμα NaOH γίνεται με δείκτη που έχει $\text{p}K_a=5$.
 - Η τιμή της σταθεράς ιοντισμού του νερού K_w αυξάνεται με την αύξηση της θερμοκρασίας.
 - Μπορούμε να διακρίνουμε μία αλκοόλη από ένα αιθέρα με επίδραση μεταλλικού Na .
 - Η τιμή της ενέργειας πρώτου ιοντισμού αυξάνεται από πάνω προς τα κάτω σε μια ομάδα του περιοδικού πίνακα.
 - Ο αζιμουθιακός κβαντικός αριθμός l καθορίζει το σχήμα του τροχιακού.

Μονάδες 5

ΘΕΜΑ 2ο

- 2.1.** Δίνονται τα στοιχεία H , O , Na και S με ατομικούς αριθμούς 1, 8, 11 και 16 αντίστοιχα.
- Να γράψετε τις ηλεκτρονιακές δομές (στιβάδες, υποστιβάδες) των ατόμων O , Na και S στη θεμελιώδη κατάσταση.

Μονάδες 6

- Να γράψετε τον ηλεκτρονιακό υ964 τύπο κατά Lewis της ένωσης NaHSO_3 .

Μονάδες 4

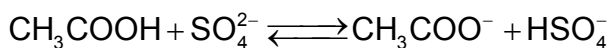
- 2.2** Δίνεται ο πίνακας:

K_a	Οξύ	Συζυγής βάση	K_b
10^{-2}	HSO_4^-	SO_4^{2-}	
10^{-5}	CH_3COOH	CH_3COO^-	

- Να μεταφέρετε στο τετράδιό σας τον πίνακα συμπληρώνοντας κατάλληλα τις τιμές K_b των συζυγών βάσεων.
Δίνεται ότι η θερμοκρασία είναι 25°C , όπου $K_w=10^{-14}$.

Μονάδες 2

- Με βάση τον πίνακα να προβλέψετε προς ποια κατεύθυνση είναι μετατοπισμένη η παρακάτω ισορροπία:

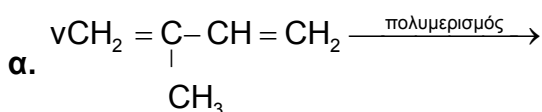


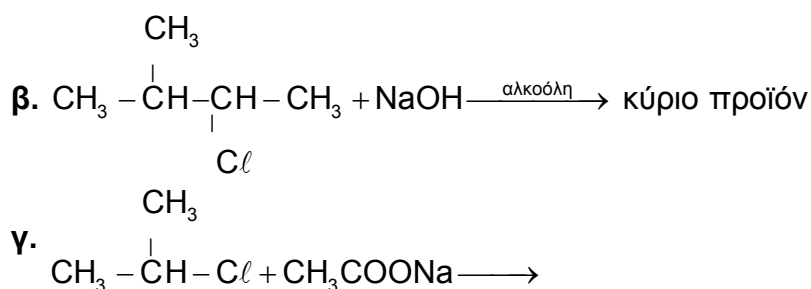
Μονάδα 1

Να αιτιολογήσετε την απάντησή σας.

Μονάδες 3

- 2.3** Να μεταφέρετε στο τετράδιό σας σωστά συμπληρωμένες (προϊόντα και συντελεστές) τις παρακάτω χημικές εξισώσεις:

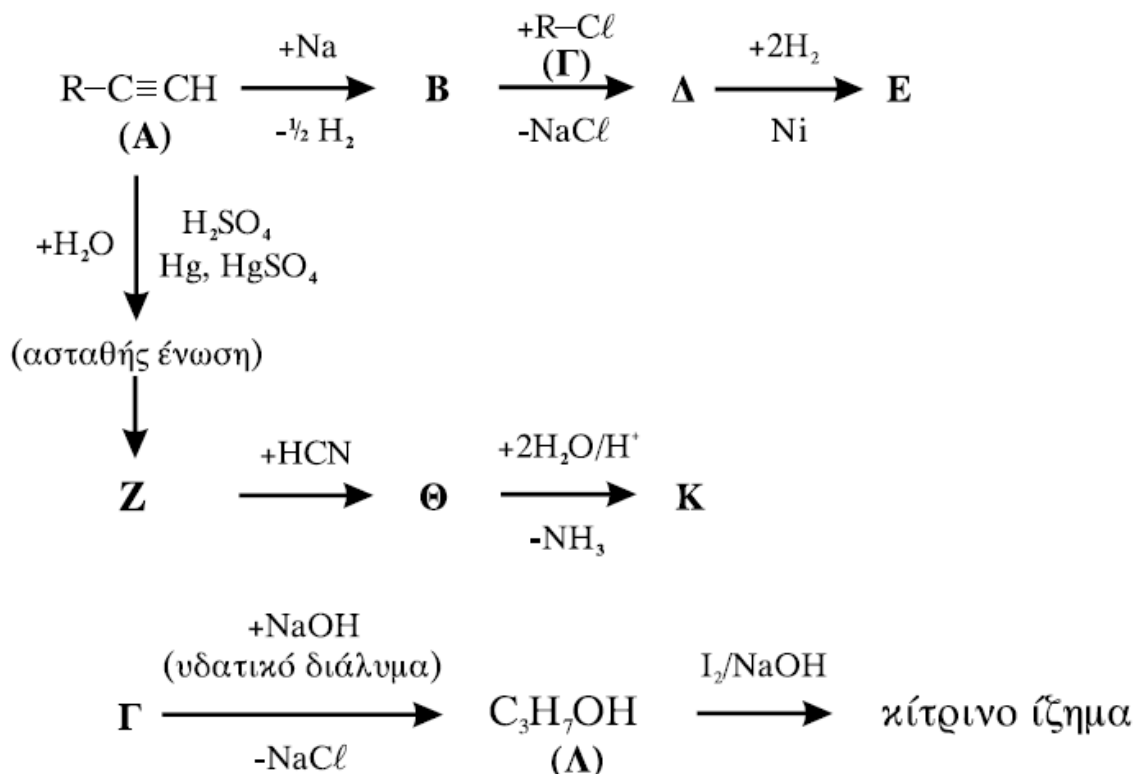




Μονάδες 9

ΘΕΜΑ 3ο

Δίνονται οι παρακάτω χημικές μετατροπές:



Δίνεται ότι το αλκύλιο R- της ένωσης Α είναι το ίδιο με το αλκύλιο R- της ένωσης Γ.

3.1 Να γράψετε τους συντακτικούς τύπους των οργανικών ενώσεων Α, Β, Γ, Δ, Ε, Ζ, Θ, Κ και Λ.

Μονάδες 18

3.2 Να γράψετε τις χημικές εξισώσεις (αντιδρώντα, προϊόντα, συντελεστές) των παρακάτω μετατροπών:

α. Επίδραση αμμωνιακού διαλύματος CuCl στην Α.

Μονάδες 2

β. Επίδραση διαλύματος KMnO₄ παρουσία H₂SO₄ στη Λ, χωρίς διάσπαση της ανθρακικής αλυσίδας.

Μονάδες 2

- 3.3 Να υπολογίσετε το μέγιστο όγκο V διαλύματος Br_2 σε CCl_4 0,4M που μπορεί να αποχρωματιστεί από 0,1 mol της ένωσης **A**.

Μονάδες 3

ΘΕΜΑ 4ο

Υδατικό διάλυμα Δ_1 περιέχει NH_3 συγκέντρωσης 0,1M.

1. 100 mL του Δ_1 αραιώνονται με x L νερού και προκύπτει διάλυμα Δ_2 . Το pH του Δ_2 μεταβλήθηκε κατά 1 μονάδα σε σχέση με pH του Δ_1 . Να υπολογίσετε τον όγκο x του νερού που προστέθηκε.

Μονάδες 6

2. Σε 100 mL του Δ_1 προστίθενται 0,4 g στερεού NaOH , χωρίς να μεταβάλλεται ο όγκος του διαλύματος, και το διάλυμα που προκύπτει αραιώνεται μέχρι τελικού όγκου 1 L (διάλυμα Δ_3). Να υπολογίσετε:

α. Το βαθμό ιοντισμού της NH_3 στο Δ_3 .

β. Το pH του Δ_3 .

Μονάδες 10

3. Στο διάλυμα Δ_3 προστίθενται 0,02 mol HCl χωρίς να μεταβάλλεται ο όγκος του διαλύματος και προκύπτει διάλυμα Δ_4 . Να υπολογίσετε το pH του Δ_4 .

Μονάδες 9

Δίνονται:

- Η σταθερά ιοντισμού της NH_3 : $K_b=10^{-5}$

- Η σχετική μοριακή μάζα M_r του NaOH : $M_r=40$

- Όλα τα διαλύματα βρίσκονται σε θερμοκρασία $\theta=25^\circ\text{C}$, όπου $K_w=10^{-14}$

Για τη λύση του προβλήματος να χρησιμοποιηθούν οι γνωστές προσεγγίσεις.